

И-8-13
585

**ЗАДАНИЯ МУНИЦИПАЛЬНОГО ЭТАПА
ВСЕРОССИЙСКОЙ ОЛИМПИАДЫ ШКОЛЬНИКОВ ПО ИСТОРИИ
2024–2025 УЧЕБНЫЙ ГОД**

Классы 7–8. Максимальный балл – 100

1. Кто из перечисленных исторических личностей являлся современником княгини Соломонии Сабуровой? (1 балл за каждый правильный ответ, всего – 3 балла).

- А) Ярослав Всеволодович.
- Б) Василий III.
- В) Иван V.
- Г) Андрей Старицкий.
- Д) Александр Меншиков.
- Е) Кондратий Булавин.
- Ж) монах Филофей.
- З) Дмитрий Донской.

3

Ответ: Б) Ж) З)

2. Владельческие крестьяне, согласно Судебникам 1497 и 1550 гг. имевшие право перехода в Юрьев день осенний от одного землевладельца к другому при условии выплаты особой компенсации – «пожилого», к концу XVI в. этой возможности оказались практически лишены. На какое число приходился Юрьев день осенний?

- А) 18 сентября.
- Б) 24 октября.
- В) 15 ноября.
- Г) 26 ноября.

1

Ответ: В)

3. Кто из перечисленных исторических личностей является представителями династии Годуновых? (2 балла за правильный ответ).

- А) царь Иван V.
- Б) царь Лжедмитрий I.
- В) царица Мария Григорьевна.
- Г) царица Евдокия Федоровна.
- Д) царь Михаил Федорович.
- Е) царь Петр.
- Ж) царь Василий Шуйский.
- З) царь Федор Борисович.

1

Ответ: Б)

4. Прочитайте отрывок из «Лекции по русской истории» С.Ф. Платонова и ответьте на вопросы. (2 балла за каждый правильный ответ, всего – 6 баллов).

«Что касается до самой императрицы, то ее судьба и личность нам уже насколько известны. На престол вступила она 32-летней женщиной после нескольких лет тяжелой жизни. Характер ее сформировался окончательно, вкусы и взгляды определились. По своему образованию и характеру ... (личное имя императрицы) не могла стать во главе государства активным его правителем. Неподготовленность к делам заставляла ее управлять с помощью доверенных лиц. Современники иногда обвиняли ... (личное имя

И-8-13

императрицы) в чудовищной лени и беспечности в самых серьезных делах. Позднейшие исследователи не всегда верят этому обвинению: медленность, с которой императрица осуществляла свои решения, они объясняют не беспечностью и ленью, а той осторожностью и сдержанностью, с какой ... (*личное имя императрицы*) отыскивала наилучший исход при разноречивых советах и всевозможных влияниях; когда же ее решение созревало, императрица не ленилась ее осуществить и тотчас же скрепляла бумагу неизменной подписью ... (*личное имя императрицы*). Во всяком случае в государственных делах императрица, давая общий тон правительству, не вмешивалась деятельно в частности управления и предоставляла их своим сотрудникам. В частном быту ... (*личное имя императрицы*) была чисто русским человеком, любила повеселиться, хорошо покушать и распустила придворных настолько, что хроника ее дворца была не беднее анекдотами, интригами и сплетнями, чем предыдущее время, несмотря на большую крутость ... (*личное имя императрицы*), способной сильно вспыхнуть и строго взыскать.

Вполне понятно, что ближайшими сотрудниками ... (*личное имя императрицы*) и главными государственными деятелями стали в большинстве случаев те люди, которые окружали ... (*личное имя императрицы*) до вступления на престол и в трудное для нее время, при Анне, служили ей верную службу».

Источник:

Платонов С.Ф. Лекции по русской истории. М.: Высшая школа, 1993. – 736 с.

1. О личности и правлении какой императрицы пишет С.Ф. Платонов? (2 балла).
2. С какой исторической эпохой соотносятся годы правления данной исторической личности? (2 балла).
3. С какого события началось правление императрицы? (2 балла).

Ответ:

- 4
1. Елизавета Петровна
 2. Елизаветинская эпоха
 3. С дворцового переворота в 1741г, когда свергли Ивана VI.

5. Определите хронологический порядок событий, конкретизирующих этапы проникновения португальцев в Азию в XVI веке. (3 балла за полностью верный ряд).

- 0
- А) появление португальцев в Японии.
 - Б) захват португальцами Гоа.
 - В) появление португальцев в Китае.
 - Г) захват португальцами Малакки.

Ответ: Б) Б) А) Г)

6. Определите хронологический порядок событий в истории Европы XVI века. (3 балла за полностью верный ряд).

- 3
- А) Религиозные войны во Франции.
 - Б) Нантский эдикт.
 - В) Утрехтская уния.
 - Г) Тридентский собор.
 - Д) Варфоломеевская ночь.

Ответ: Г) А) А) В) Б)

И-8-13

7. Соотнесите историческую личность и род его деятельности. Во втором перечне две лишние характеристики. (за каждое правильное соответствие – 1 балл, всего – 4 балла).

А) Львов Георгий Евгеньевич	1) исполняющий обязанности премьер-министра Кабинета Министров РФ. 1991 г., декабрь – 1992 г., декабрь
Б) Черненко Константин Устинович	2) Генеральный секретарь ЦК партии. 1922 г., апрель – 1953 г., март
В) Гайдар Егор Тимурович	3) министр-председатель Временного правительства. 1917 г., март – июль (по старому стилю)
Г) Ворошилов Климент Ефремович	4) председатель Президиума Верховного Совета СССР. 1984 г., апрель – 1985 г., март.
	5) председатель Президиума Верховного Совета СССР. 1985 г., июль – 1988 г., октябрь
	6) председатель Президиума Верховного Совета СССР. 1953 г., март – 1960 г., май

Ответ:

3

А)	Б)	В)	Г)
4 3	4	5	6

8. Установите правильное соответствие между понятием и его определением. В первом перечне две лишние характеристики. (за каждое правильное соответствие – 1 балл, всего – 5 баллов)

А) Разряд (Разрядный приказ)	1) в русском праве XVIII в. вид позорящего наказания для дворян (объявление вне закона, лишение прав и достоинств).
Б) Фискал	2) земельная отработочная рента, принудительный труд зависимого крестьянина с использованием своего собственного инвентаря в хозяйстве землевладельца
В) Шельмование	3) государственный чиновник в России в первой четверти XVIII в. в системе органов надзора над всеми учреждениями страны
Г) Гласные	4) члены городских дум, земских собраний в дореволюционной России
Д) Ассамблея	5) центральное государственное учреждение в Московской Руси, ведавшее служилыми людьми, военным управлением, окраинными городами
Е) Закладничество	–
Ж) Барщина	–

Ответ:

А)	Б)	В)	Г)	Д)	Е)	Ж)
5	3	4	4			2

✓

✓

✓

✓

✓

9. Установите правильное соответствие между датой и историческим событием / исторической личностью XVIII века. В первом перечне присутствует лишняя характеристика. (за каждое правильное соответствие – 1 балл, всего – 5 баллов).

А) 1722–1723 гг.	1) Восстание на Дону
Б) 1775 г.	2) Учреждение первых коллегий
В) 1733–1743 гг.	3) Издание Манифеста о свободе предпринимательства
Г) 1718 г.	4) Северная экспедиция
Д) 1707–1708 гг.	5) Война России с Ираном
Е) 1790 г.	–



Ответ:

А)	Б)	В)	Г)	Д)	Е)
4	3	5	2	1	

10. Определите исторические личности. Соотнесите иллюстрации исторических личностей с конкретными государствами. Ответ запишите в таблицу (1 балл за каждый верный ответ, всего – 8 баллов в совокупности за исторические личности и государства).

<p>А)</p> 	<p>Б)</p> 
<p>В)</p>	<p>Г)</p>

И-8-13



Ответ:

Буквенное обозначение иллюстрации	Историческая личность	Государство
А)		
Б)		Российская империя
В)	Суворов А.В.	Российская Империя
Г)		Китай /

11. Установите соответствие между событием и исторической датой. Запишите в таблицу выбранные цифры под соответствующими буквами. Во втором перечне есть лишние характеристики. (1 балл за каждое верное соответствие, всего – 5 баллов).

А) Казнь князя Артемия Волынского в результате конфронтации с Э. Бироном и А. Остерманом	1) 1831 г.
Б) Президент РСФСР Б.Н. Ельцин, Председатель Верховного Совета Белоруссии С.С. Шушкевич и Президент Украины Л.М. Кравчук подписали в Беловежской Пуще соглашение о прекращении существования СССР и создании Содружества Независимых Государств (СНГ)	2) 12 июня 1990 г.
В) Декларация о государственном суверенитете РСФСР, провозглашавшая приоритет на территории России российских законов над законами СССР и запрещавшая изменение территории РСФСР без волеизъявления народа путем референдума	3) 19 августа 1991 г.

И-8-13


Г) Восстание в Новгородской губернии против организации военных поселений	4) 8 декабря 1991 г.
Д) Открытие деятельности Уложенной комиссии в Грановитой палате Московского Кремля	5) 1740 г.
	6) 1674 г.
	7) лето 1767 г.

Ответ:


А)	Б)	В)	Г)	Д)
75	4	2	81	4

12. Назовите архитектурные сооружения, изображенные на иллюстрациях. Ответ оформите в виде перечня элементов под соответствующими номерами. В строках третьей колонки обозначьте имя правителя, при котором было возведено архитектурное сооружение. (по 1 баллу за верный элемент ответа, всего – 8 баллов).

А)




Б)



B)



D)



Ответ:

Буквенное обозначение памятников	Название	Имя правителя, при котором был воздвигнут конкретный памятник
А		Василий III
Б		Иван IV
В		Василий III
Г		Иван IV

13. Заполните пробелы в тексте. Ответ оформите в виде перечня элементов под соответствующими номерами. (по 1 баллу за каждый правильно заполненный пропуск, всего – 10 баллов).

Из Конституции Союза Советских Социалистических Республик 7 октября 1977 г.

I. Основы общественного строя и политики ... (1 – аббревиатура названия государства).

Глава 1. Политическая система.

Статья 1. Союз Советских Социалистических Республик есть ... (2 – общественно-экономическая система, в основании которой лежит принцип всеобщего равенства и социальной справедливости) общенародное государство, выражающее волю и интересы ... (3 – социальная группа наёмных работников в сфере материального производства и услуг, возникшая в индустриальном обществе), крестьян и интеллигенции, трудящихся всех наций и народностей страны.

Статья 2. Вся власть в СССР принадлежит ... (4 – понятие, определяющее историческую, социально-политическую и экономическую общность населения). Народ осуществляет государственную власть через ... (5 – представительные органы государственной власти СССР и союзных республик), составляющие политическую основу СССР. Все другие государственные органы подконтрольны и подотчетны Советам народных депутатов.

Статья 3. Организация и деятельность ... (6 – государство в Евразии, существовавшее с 30 декабря 1922 года по 26 декабря 1991 года) строятся в соответствии с принципом ... (7 – форма организационного и государственного устройства, основанная на обязательности решения вышестоящих органов для нижестоящих при выборности всех органов и подотчётности их нижестоящим): выборностью всех органов государственной власти снизу доверху, подотчетностью их народу, обязательностью решений вышестоящих органов для нижестоящих. Демократический централизм сочетает единое руководство с инициативой и творческой активностью на местах, с ответственностью каждого ... (8 – структурно-функциональная часть государственного аппарата, организация или учреждение, которым поручено частичное (специализированное) осуществление задач и функций государства) и должностного лица за порученное дело.

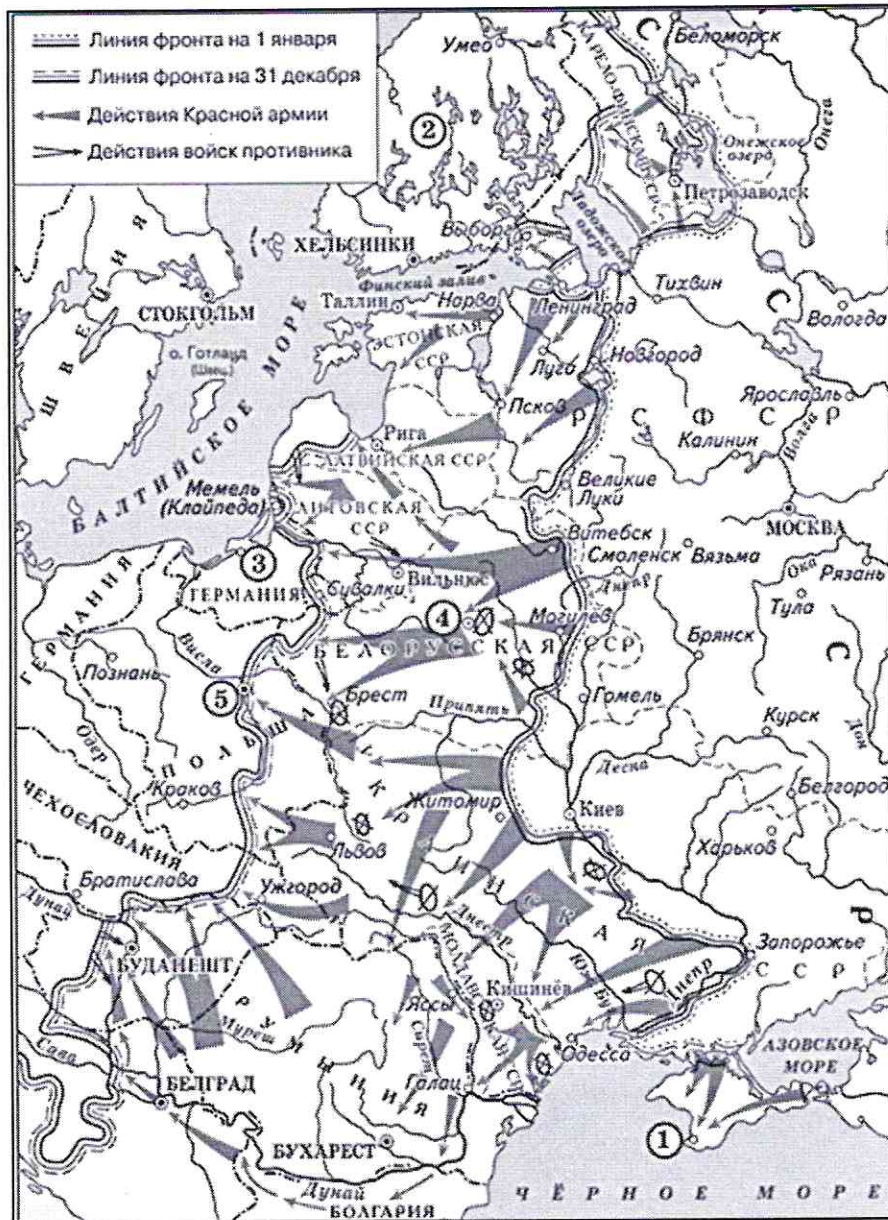
Статья 6. Руководящей и направляющей силой ... (9 – социалистическое общество, которое сложилось в результате победы Октябрьской революции и построения социализма), ядром его политической системы, государственных и общественных организаций, является ... (10 – правящая партия в РСФСР и СССР). КПСС существует для народа и служит народу.

Ответ:

1	СССР	+
2	капиталистическое социалистическое	+
3	рабочих	+
4	народу	+
5	Советов народных депутатов	+
6	Советского государства	+
7	демократического централизма	+
8	государственного аппарата	+
9	советского общества	+
10	Коммунистическая партия	

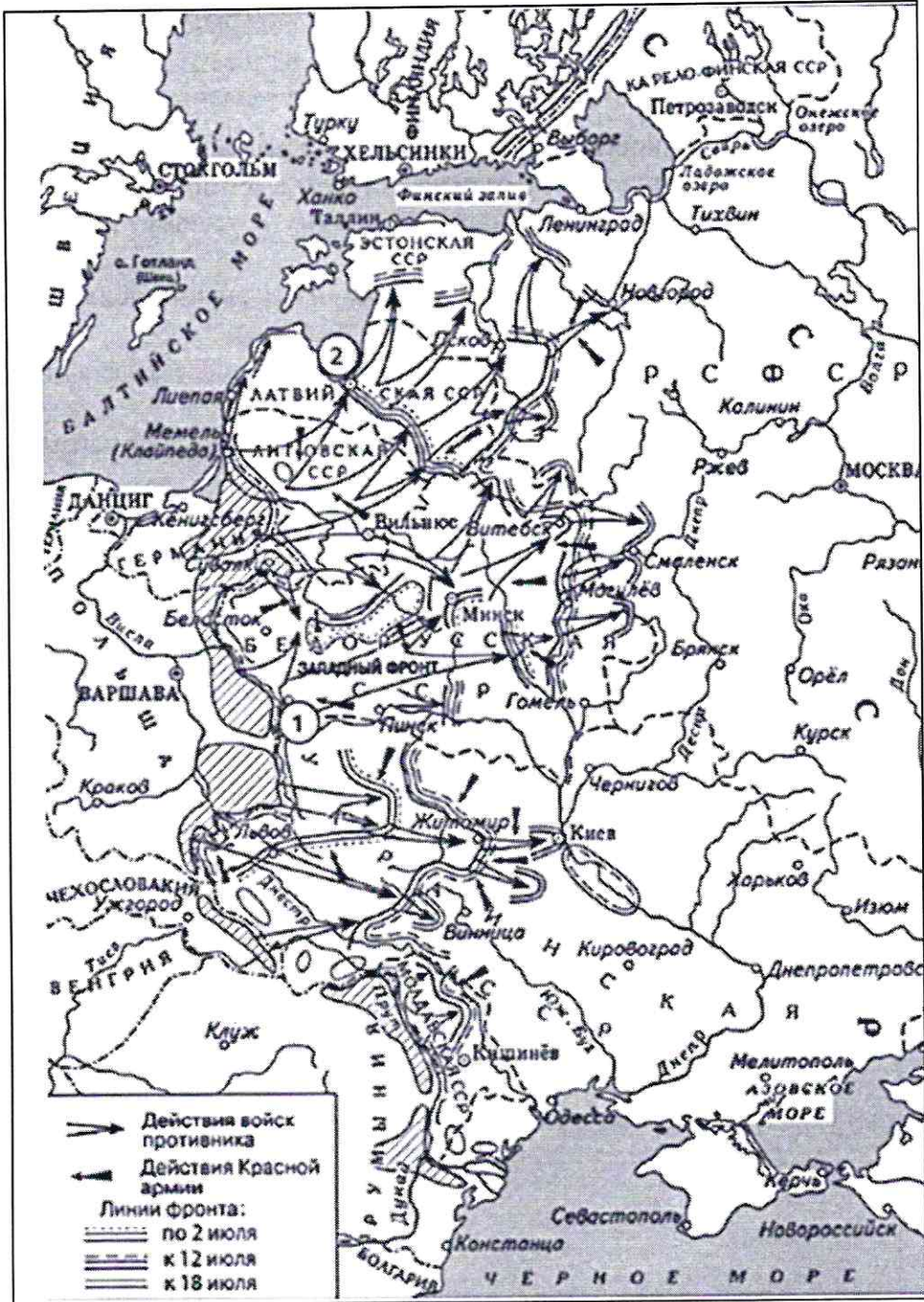
14. Изучите фрагменты исторических карт и выполните задания к ним. (2 балла за каждый правильный ответ, всего – 8 баллов).

А



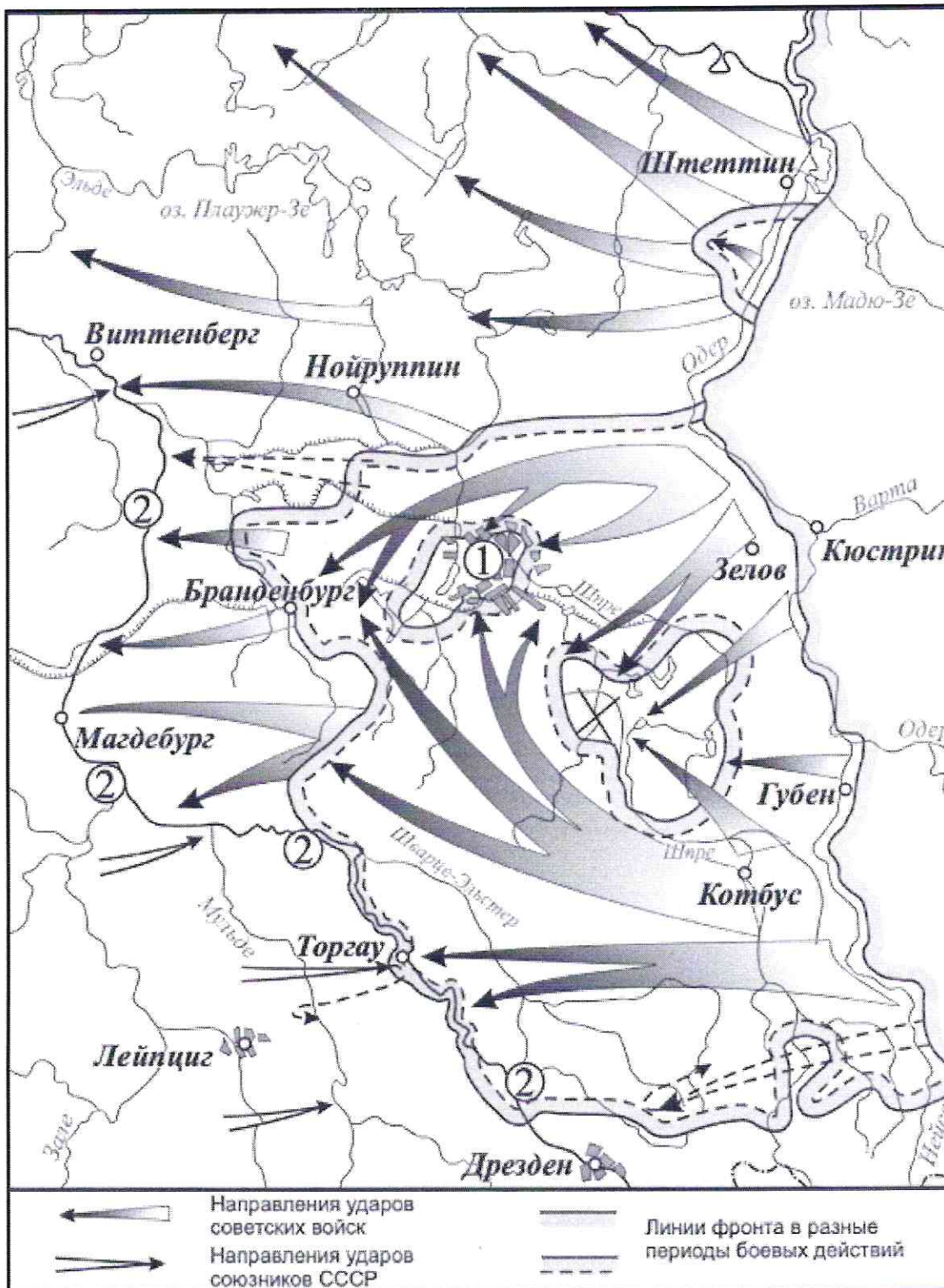
1. Заполните пропуск в предложении: «События, обозначенные на схеме стрелками, произошли в ... году».

Б



2. Прочтите текст о событиях, отражённых на схеме, и, используя схему, укажите название города, которое пропущено в тексте: «С начала июля по середину августа немецкие войска с переменным успехом развивали наступление на Украине. Немецкие танки 9 июля ворвались в Житомир и, «оседлав» шоссе ... – Киев, уже 11 июля в районе реки Ирпень вышли на подступы к Киевскому укрепрайону».

В



3. Укажите название города, обозначенного на схеме цифрой «1».

14.А	1939
14.Б	Италия
14.В	Феррари
14.Г	Шатоэн

15. Что объединяет исторические факты, понятия и личности, образующие каждый из представленных смысловых рядов? Дайте краткий ответ. (2 балла за каждый полный ответ, 1 балл – за каждый неполный ответ, всего – 8 баллов).

№	Смысловой ряд:	Ответ:
1	Антропоцентризм. «Науки о человеке». Книгопечатание. «Жизнеописания художников». Дж. Боккаччо. «Черная смерть». Проблемы этики. Л. Бруни. «Оккультные науки». Великие географические открытия. Гуманистическое образование. Церковь Санта-Мария-делле-Карчери в Прато. Флорентийская скульптура.	
2	Попытки реформ Людовика XVI. Созыв Генеральных штатов. Декларация прав человека и гражданина. Вареннский кризис. Конституция 1791 г. Ж.Ж. Дантон. Ж.-П. Марат. Якобинская диктатура. Комитет общественного спасения. М. Робеспьер. Террор. Термидорианский переворот.	Революция Франции
3	От мировой революции к мирному сосуществованию. Генуэзская конференция. Г.В. Чичерин. Дипломатические отношения с Китаем. Попытки создания системы коллективной безопасности. Вступление СССР в Лигу Наций. Пограничный конфликт в районе озера Хасан. Англо-германские переговоры о разграничении сфер влияния. Советско-германский договор.	Революция СССР
4	Страна в ожидании перемен. В. Цой. Основные идеи и первые шаги. Падение уровня управляемости страной. М.С. Горбачев. Рост центробежных тенденций. Формирование самостоятельной позиции российского руководства. Противостояние российского и союзного руководств. Новоогаревский процесс. Новое мышление. Выступление ГКЧП. Беловежские соглашения.	Перестройка в СССР 2

16. Выберите по два верных ответа в каждом задании. (1 балл за каждый правильный ответ, всего – 6 баллов).

16.1. В границах современной территории Югры в XIV–XVI вв. располагались следующие угорские княжества:

- 1) Эмдерское княжество, Остяцкое княжество.
- 2) Казымское княжество, Кодское княжество.
- 3) Сосьвинское княжество, Вогульское княжество.
- 4) Сосьвинское княжество, Ляпинское княжество.
- 5) Остяко-Вогульское княжество, Кондинское княжество.
- 6) княжество Бардака, Остяко-Вогульское княжество.

16.2. Укажите представителей «польской ссылки» XIX в., сосланных в город Сургут:

- 1) Д. Станевич, А. Богинский.
- 2) Т. Рехневский, Ю. Пилсудский.
- 3) Ю. Пилсудский, С. Крижановский.
- 4) Ч. Герватовский, С. Понятовский.
- 5) С. Понятовский, С. Крижановский.
- 6) П. Малиновский, Л. Мицкевич.

16.3. Кто из перечисленных личностей возглавлял наш округ в годы Великой Отечественной войны?

- 1) А.С. Золотухин
- 2) А.Н. Лоскутов.
- 3) И.Д. Булатов.
- 4) М.Я. Савин.
- 5) А.Г. Комаров.
- 6) В.Т. Терещенко.

Ответ:

16.1.	16.2.	16.3.
5 Н	186	63

17. Соотнесите цитаты с историческими личностями, которым они адресованы. Во втором перечне (второй колонке таблицы) присутствует лишняя историческая персоналия. (1 балл за каждое верное соответствие, всего – 5 баллов).

<p>А) Поэт и драматург А.С. Пушкин: «Пробуждение России, развитие её могущества, её движение к единству (к русскому единству, разумеется), оба Ивана, величественная драма, начавшаяся в Угличе и закончившаяся в Ипатьевском монастыре, – как, неужели всё это не история, а лишь бледный и полузабытый сон? А Пётр Великий, который один есть целая всемирная история! А Екатерина II, которая поставила Россию на пороге Европы? А Александр, который привёл вас в Париж? и (положа руку на сердце) разве не находите вы чего-то значительного в теперешнем положении России, чего-то такого, что поразит будущего историка?».</p>	<p>1) Екатерина II</p>
<p>Б) Историк С.Ф. Платонов: «Исполненный самых лучших намерений, он стремился всей душой к благу государства, но отсутствие правительственных навыков мешало ему действовать удачно. Недовольный системой управления, он не мог найти вокруг себя способных людей, чтобы заменить ими прежнюю администрацию. Желая водворить порядок при дворе и в администрации, он громко осуждал и искоренял старое, новое же</p>	<p>2) В.И. Ленин</p>

насаждал с такой строгостью, что оно всем казалось горше старого».	
В) Писатель и драматург Жан-Ришар Блок: «Произошла та встреча, какая бывает лишь раз в тысячелетие, встреча величайшего ума и народа, чей дух воплощался в этом уме, равно как воплощались в нем народные чаяния, народная мощь и все возможности, заложенные в России, и в конце концов они стали едины. Это органическое слияние гения одного человека с гением народа предполагает наличие огромной любви, безграничной веры, беспредельного великодушия, сверхчеловеческой способности жертвовать собой, забывать себя. О какой любви идет речь? О любви к народу, его породившему. О какой вере? О вере в силы этого народа».	3) Павел I
Г) Царь Иван Грозный: «Когда же суждено было по божьему предначертанию родительнице нашей, благочестивой царице Елене, переселиться из земного царства в небесное, остались мы с почившим в бозе братом Георгием круглыми сиротами – никто нам не помогал; осталась нам надежда только на бога, и на пречистую богородицу, и на всех святых молитвы, и на благословение родителей наших».	4) Елизавета Петровна
Д) Историк С.Ф. Платонов: «Она не успела выполнить своего плана целиком и не провела последовательно своих идей. Мысли Наказа не перешли в практику, законодательство не было перестроено на новых основаниях, отношения сословий остались, по существу, прежними и развивались в том направлении, какое дано было в предшествующее время. Развитие крепостного права и сословность самоуправления прямо противоречили тем отвлеченным теориям, каким поклонялась императрица, но зато прямо соответствовали желаниям самого влиятельного сословия – дворянского».	5) П.Я. Чаадаев
	6) Андрей Курбский

Ответ:

А)	Б)	В)	Г)	Д)
5	3	2	6	4

18. Выберите один из вариантов ответа.

Медалью «За победу над Германией в Великой Отечественной войне 1941–1945 гг.», утверждённой 9 мая 1945 года, было награждено следующее количество человек. (2 балла за правильный ответ).

А) 760 000 человек.

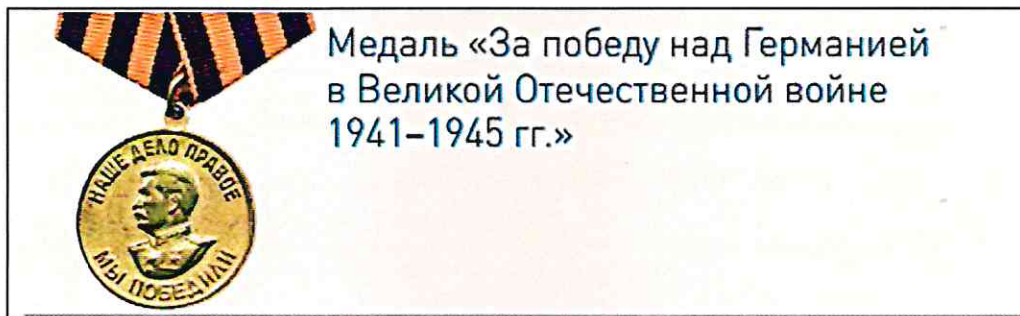
Б) 14 933 000 человек.

В) 13 831 000 человек.

Г) 11 831 000 человек.

2

Ответ: б)



19. Выберите по два верных ответа в каждом задании. (1 балл за каждый правильный ответ, всего – 8 баллов).

19.1. Какие из предложенного перечня события не относятся к внешней политике Российской империи начала XIX в.?

- 1) Поражение в битве при Аустерлице.
- 2) Российские войска взяли Кбааду.
- 3) Битва народов под Лейпцигом.
- 4) Возникновение Северного и Южного обществ.
- 5) Венский конгресс.
- 6) Тильзитский мир.

19.2. Какие исторические события и понятия характеризуют народы Российской империи и национальную политику правительства?

- 1) Перепись населения, миссионерство, еврейский вопрос.
- 2) «Союз воинствующих безбожников», культурная революция, черта оседлости.
- 3) Антипартийная группа, русификаторская линия, перепись населения,
- 4) Перепись населения, Фонд национального благосостояния, миссионерство.
- 5) Урбанизация, миссионерство, герои нового времени.
- 6) Черта оседлости, восстание в Царстве Польском, русификаторская линия.

19.3. Отметьте политических деятелей современности?

- 1) А.А. Турчак, В.И. Матвиенко, С.В. Кириенко.
- 2) В.В. Меньшов, И.Е. Хейфиц, Д.А. Медведев.
- 3) Л.В. Кулешов, Д.А. Медведев, М.С. Ниппельбаум.
- 4) В.В. Путин, Д.А. Медведев, М.В. Мишустин.
- 5) М.С. Горбачев, М.В. Мишустин, А.В. Шусев.
- 6) Ю.В. Андропов, Д.А. Медведев, М.В. Мишустин.

19.4. Какие исторические события конкретизируют политическую жизнь Российской Федерации в 2014–2022 гг.

- 1) Создание Шанхайской организации сотрудничества. Соглашение о создании Единого экономического пространства.
- 2) Учреждение совета «Россия – НАТО». Создание Стабилизационного фонда.
- 3) Приостановлено членство Российской Федерации в Большой восьмерке. Создание Шанхайской организации сотрудничества
- 4) Договор о принятии в состав Российской Федерации Республики Крым. Начало Специальной военной операции.

И-8-13

5) Минские соглашения. Референдумы в ДНР, ЛНР, Херсонской и Запорожской областях.

6) Соглашение о создании Единого экономического пространства. Создание Стабилизационного фонда.

Ответ:

3

19.1.	19.2.	19.3.	19.4.
25 15	25	456	45

+

++