



ВСЕРОССИЙСКАЯ ОЛИМПИАДА ШКОЛЬНИКОВ 2024/2025 гг.
МУНИЦИПАЛЬНЫЙ ЭТАП
ТЕХНОЛОГИЯ
КУЛЬТУРА ДОМА, ДИЗАЙН И ТЕХНОЛОГИИ
7 КЛАССЫ

155

Шифр участника КДДТ 4-5

Инструкция по выполнению заданий

Вам предстоит выполнить теоретические и тестовые задания.

Время выполнения заданий теоретического тура 2 академических часа (90 минут).

Выполнение теоретических (письменных, творческих) заданий целесообразно организовать следующим образом:

- не спеша, внимательно прочитайте задание и определите, наиболее верный и полный ответ;
- отвечая на теоретический вопрос, обдумайте и сформулируйте конкретный ответ на поставленный вопрос;
- если Вы выполняете задание, связанное с заполнением таблицы или схемы, не старайтесь детализировать информацию, вписывайте только те сведения или данные, которые указаны в вопросе;
- особое внимание обратите на задания, в выполнении которых требуется выразить Ваше мнение с учетом анализа ситуации или поставленной проблемы. Внимательно и вдумчиво определите смысл вопроса и логику ответа (последовательность и точность изложения). Отвечая на вопрос, предлагайте свой вариант решения проблемы, при этом ответ должен быть кратким, но содержать необходимую информацию;
- после выполнения всех предложенных заданий еще раз удостоверьтесь в правильности выбранных Вами ответов и решений.

Выполнение тестовых заданий целесообразно организовать следующим образом:

- не спеша, внимательно прочитайте тестовое задание;
- определите, какой из предложенных вариантов ответа наиболее верный и полный;
- напишите букву, соответствующую выбранному Вами ответу;
- продолжайте, таким образом, работу до завершения выполнения тестовых заданий;
- после выполнения всех предложенных заданий еще раз удостоверьтесь в правильности ваших ответов;
- если потребуется корректировка выбранного Вами варианта ответа, то неправильный вариант ответа зачеркните крестиком, и рядом напишите новый.

Предупреждаем Вас, что:



ВСЕРОССИЙСКАЯ ОЛИМПИАДА ШКОЛЬНИКОВ 2024/2025 гг.
МУНИЦИПАЛЬНЫЙ ЭТАП
ТЕХНОЛОГИЯ
КУЛЬТУРА ДОМА, ДИЗАЙН И ТЕХНОЛОГИИ
7 КЛАССЫ

Шифр участника КДДТ4-5

– при оценке тестовых заданий, где необходимо определить один правильный ответ, 0 баллов выставляется за неверный ответ и в случае, если участником отмечены несколько ответов (в том числе правильный), или все ответы;

– при оценке тестовых заданий, где необходимо определить все правильные ответы, 0 баллов выставляется, если участником отмечены неверные ответы, большее количество ответов, чем предусмотрено в задании (в том числе правильные ответы) или все ответы.

Задание теоретического тура считается выполненным, если Вы вовремя сдаете его членам жюри.

Максимальная оценка – 25 баллов.

Желаем удачи!



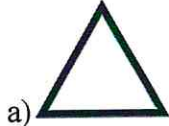
ВСЕРОССИЙСКАЯ ОЛИМПИАДА ШКОЛЬНИКОВ 2024/2025 гг.
МУНИЦИПАЛЬНЫЙ ЭТАП
ТЕХНОЛОГИЯ
КУЛЬТУРА ДОМА, ДИЗАЙН И ТЕХНОЛОГИИ
7 КЛАССЫ

Шифр участника КДДТ 4-5

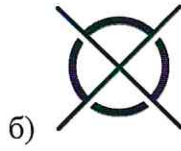
Общая часть

0

1. На ярлычке одежды указаны следующие знаки. Что они означают?



отбеливание разрешено



отжим запрещен
нельзя стирать в машине



стирать два раза

2. Установите соответствие.

1

1	пенька	а	Бумагоподобный нетканый материал, который изготавливают из проклеенных и непроклеенных целлюлозных волокон с добавлением волокон полиэстера.
2	шерсть	б	Грубое лубяное волокно из стеблей конопли.
3	флизелин	в	Изготовленная из волосяного покрова животных, таких как овцы, козы и верблюды.

Ответ: 1 - б ; 2 - в ; 3 - а.

0

3. Специалист в области искусства и дизайна, который создаёт графические и визуальные элементы для декорации и оформления различных объектов:

- а) дизайнер
- б) портной
- в) художник-оформитель
- г) конструктор



ВСЕРОССИЙСКАЯ ОЛИМПИАДА ШКОЛЬНИКОВ 2024/2025 гг.
МУНИЦИПАЛЬНЫЙ ЭТАП
ТЕХНОЛОГИЯ
КУЛЬТУРА ДОМА, ДИЗАЙН И ТЕХНОЛОГИИ
7 КЛАССЫ

Шифр участника КДТ 4-5

Ответ: а

0 4. Вы пригласили гостей в ресторан на день рождения и заказали рыбу в зависимости от их предпочтений. Какие два прибора должны быть на столе?

Ответ: 1 - нож;
2 - вилка;

1 5. Какие металлы и сплавы можно применять в электрической проводке?

- а) медь
- б) ртуть
- в) латунь
- г) алюминий

Ответ: а, г

Специальная часть

0 6. Как правильно размораживать замороженное мясо?

- а) в горячей воде;
- б) в холодной воде;
- в) на воздухе

Ответ: б

1 7. Цветное хлопковое изделие стирают при температуре до:

- А) до 30°C;
- Б) до 40 °C;



ВСЕРОССИЙСКАЯ ОЛИМПИАДА ШКОЛЬНИКОВ 2024/2025 гг.
МУНИЦИПАЛЬНЫЙ ЭТАП
ТЕХНОЛОГИЯ
КУЛЬТУРА ДОМА, ДИЗАЙН И ТЕХНОЛОГИИ
7 КЛАССЫ

Шифр участника КДДТ 4-5

В) до 60°C.

Ответ: в

1 8. Какие петли называются кромочными?

- а) те, которые находятся в середине вязаного полотна;
- б) те, которые образуют последний ряд;
- в) те, которые образуют кромку — первая и последняя петли.

Ответ: в

1 9. Выберите неверный ответ. При шитье на швейной машине:

- а) волосы следует убрать под косынку
- б) сидеть нужно напротив швейной иглы
- в) на изделии не должно быть игл и булавок
- г) ножницы нужно класть на платформу

Ответ: з

1 10. Установите соответствие:

1	Место соединения деталей.	а	стежок
2	Ряд повторяющихся стежков.	б	длина стежка
3	Переплетение ниток между двумя проколами иглы	в	ширина шва
4	Расстояние между двумя последовательными проколами иглы	г	стык
5	Расстояние от среза детали до строчки	д	строчка



ВСЕРОССИЙСКАЯ ОЛИМПИАДА ШКОЛЬНИКОВ 2024/2025 гг.
МУНИЦИПАЛЬНЫЙ ЭТАП
ТЕХНОЛОГИЯ
КУЛЬТУРА ДОМА, ДИЗАЙН И ТЕХНОЛОГИИ
7 КЛАССЫ

Шифр участника КДРТ 4-б

Ответ: 1 - з; 2 - д; 3 - а, 4 - б; 5 - в.

0 11. Чулочная вязка получается:

- а) чередованием лицевых и изнаночных рядов;
- б) чередование лицевых и изнаночных петель;
- в) чередованием лицевых петель и накидов.

Ответ: б

1 12. Какой вид теста используется для приготовления торта «Наполеон»?

- а) бисквитное;
- б) слоёное;
- в) заварное.

Ответ: б

0 13. Продукты, образующиеся в процессе молочнокислого брожения, включают:

- а) сметана
- б) простокваша
- в) кумыс
- г) творог
- д) сыр

Ответ: а, б, г, д



ВСЕРОССИЙСКАЯ ОЛИМПИАДА ШКОЛЬНИКОВ 2024/2025 гг.
МУНИЦИПАЛЬНЫЙ ЭТАП
ТЕХНОЛОГИЯ
КУЛЬТУРА ДОМА, ДИЗАЙН И ТЕХНОЛОГИИ
7 КЛАССЫ

Шифр участника КДДТ4-5

14 Ответьте на вопрос. Как определить свежесть яйца с помощью воды?

1
0
Ответ: Опустить яйцо в воду, если оно полностью утонет, то яйцо свежее

0
15. Закончите предложение.

Документ, в котором подробно описан процесс обработки изделия, включая операции, их составляющие, материалы, оборудование, технологические режимы и время, необходимое для создания изделия.

Ответ: инструкцию

0
16. Назовите технику декоративно-прикладного искусства, с помощью которой оформлена декоративная шкатулка, представленная на картинке.



Ответ: живпись

0
17. Определите вид декоративно-прикладного творчества по изображению.

1



сухое валяние



ВСЕРОССИЙСКАЯ ОЛИМПИАДА ШКОЛЬНИКОВ 2024/2025 гг.
МУНИЦИПАЛЬНЫЙ ЭТАП
ТЕХНОЛОГИЯ
КУЛЬТУРА ДОМА, ДИЗАЙН И ТЕХНОЛОГИИ
7 КЛАССЫ

Шифр участника КДТ 4-5

2		выжигание есть по дереву
3		аксессуары

Ответ: 1 - ____; 2 - ____; 3 - ____.

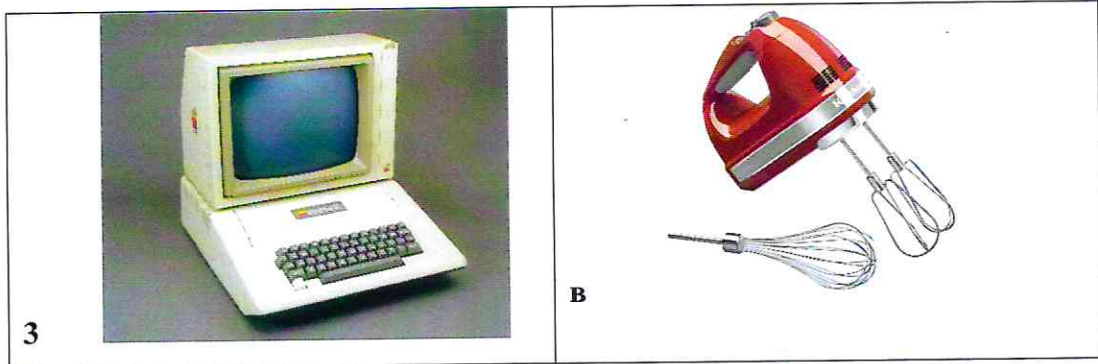
18. Установите соответствие между рисунками, изображающими устройства из прошлого и современные приборы, удовлетворяющие ту же потребность.

Старина	Современность
1 	а 
2 	б 



ВСЕРОССИЙСКАЯ ОЛИМПИАДА ШКОЛЬНИКОВ 2024/2025 гг.
МУНИЦИПАЛЬНЫЙ ЭТАП
ТЕХНОЛОГИЯ
КУЛЬТУРА ДОМА, ДИЗАЙН И ТЕХНОЛОГИИ
7 КЛАССЫ

Шифр участника КДРТ 4-5



Ответ: 1 - в; 2 - а; 3 - б.

1

19. Изделия из каких тканей нельзя сушить в подвешенном состоянии:

- а) шерстяных;
- б) нитрона;
- в) ацетатных;
- г) хлопчатобумажных.

Ответ: а

0

20. Определите последовательность установки машинной иглы

- а) Закрепить винт иглодержателя
- б) Повернуть маховое колесо, поднять игловодитель в верхнее положение
- в) Ослабить винт иглодержателя
- г) Ввести иглу в иглодержатель до упора
- д) Поднять и опустить иглу в отверстие игольной пластины

Ответ: б, в, г, д, а.



ВСЕРОССИЙСКАЯ ОЛИМПИАДА ШКОЛЬНИКОВ 2024/2025 гг.
МУНИЦИПАЛЬНЫЙ ЭТАП
ТЕХНОЛОГИЯ
КУЛЬТУРА ДОМА, ДИЗАЙН И ТЕХНОЛОГИИ
7 КЛАССЫ

Шифр участника КДДТ 7-3

Кейс задание

21. Рассмотрите представленную на фото модель швейного изделия.

1) Опишите внешний вид модели по предложенной форме



- 5
- 0,5 1. Наименование изделия юбка
- 0,5 2. Детали юбки, их количество задняя и передняя половинки
- 0,5 3. Характеристика ткани н/б
- 0,5 4. Декоративно-отделочные элементы мяс



ВСЕРОССИЙСКАЯ ОЛИМПИАДА ШКОЛЬНИКОВ 2024/2025 гг.
МУНИЦИПАЛЬНЫЙ ЭТАП
ТЕХНОЛОГИЯ
КУЛЬТУРА ДОМА, ДИЗАЙН И ТЕХНОЛОГИИ
7 КЛАССЫ

Шифр участника РДТ 4-5

2) Зарисуйте свой вариант модели

Эскиз:



- 0,5
1
0,5
1,0
4
1. Наименование изделия юбка прямая с заужением к низу
 2. Детали юбки, их количество переднее и заднее полотнище юбки, пояс
 3. Характеристика ткани клетчатая ткань
 4. Декоративно-отделочные элементы фигурный пояс, вышивка (узор) на переднем полотнище
- Лаврова - Лав
Кочнева ВВ - ЛК
Карамова СА - СК



ВСЕРОССИЙСКАЯ ОЛИМПИАДА ШКОЛЬНИКОВ 2024/2025 гг.
МУНИЦИПАЛЬНЫЙ ЭТАП
ТЕХНОЛОГИЯ
КУЛЬТУРА ДОМА, ДИЗАЙН И ТЕХНОЛОГИИ
7 КЛАССЫ

95

Шифр участника К20Т4-5

Практическое задание

Содержит два альтернативных задания:

1. Практика по ручной обработке швейного изделия и моделированию швейных изделий
2. Практика по 3D моделированию

Время выполнения – 180 мин.

Максимальное количество баллов – 35 баллов.

Вариант 1

Практика по ручной обработке швейного изделия и моделированию швейных изделий

Практическое задание варианта 1 содержит две части:

1. Применение петельного стежка в работе с вышивкой (15 баллов)
2. Моделирование прямой юбки с рельефами (20 баллов)

Часть 1. Применение петельного стежка в работе с вышивкой



Задание

1. Рассмотрите рисунок предложенной вышивки.
2. На ткань положите копировальную бумагу, сверху положите лист для перевода рисунка на



ВСЕРОССИЙСКАЯ ОЛИМПИАДА ШКОЛЬНИКОВ 2024/2025 гг.
МУНИЦИПАЛЬНЫЙ ЭТАП
ТЕХНОЛОГИЯ
КУЛЬТУРА ДОМА, ДИЗАЙН И ТЕХНОЛОГИИ
7 КЛАССЫ

Шифр участника КДДТ 4-5

ткань, приколите, обведите контуры рисунка. По намеченной линии цветочного фрагмента выполните петельного стежка (постарайтесь, чтобы при выполнении вышивки было мало прерываний строчки).

3. Выполните самоконтроль.


Материалы и инструменты: ткань х/б (15 × 12 см), копировальная бумага, карандаш, нитки мулине, ручные иглы, булавки, напёрсток, ножницы.



ВСЕРОССИЙСКАЯ ОЛИМПИАДА ШКОЛЬНИКОВ 2024/2025 гг.
МУНИЦИПАЛЬНЫЙ ЭТАП
ТЕХНОЛОГИЯ
КУЛЬТУРА ДОМА, ДИЗАЙН И ТЕХНОЛОГИИ
7 КЛАССЫ

Шифр участника КДДТ 4-5

Лист для перевода рисунка на ткань






ВСЕРОССИЙСКАЯ ОЛИМПИАДА ШКОЛЬНИКОВ 2024/2025 гг.
МУНИЦИПАЛЬНЫЙ ЭТАП
ТЕХНОЛОГИЯ
КУЛЬТУРА ДОМА, ДИЗАЙН И ТЕХНОЛОГИИ
7 КЛАССЫ

Шифр участника К22Т45

Карта пооперационного контроля для участников и жюри по ручной обработке швейного изделия

№ п/п	Критерии оценивания	Макс. балл	Балл участника
1.	Наличие рабочей формы (фартук, головной убор)	1	1
2.	Качественное выполнение петельного стежка	3	0
3.	Сохранение формы цветочного фрагмента	3	2
4.	Вышивка расположена по центру ткани	3 1	1
5.	Внешний вид: цветовая гамма ниток, стежки выполнены точно по намеченным линиям, нитки в начале и конце работы прочно закреплены	3	1,5
6.	Аккуратный вид с изнаночной стороны: отсутствие узелков, стежки плотно прилегают к поверхности ткани	3 2	1,5
7.	Соблюдение правил безопасной работы и правильная организация рабочего места	2	2
	Итого	15	9

Ставилова С.И. - старш
Жонкина В.В. - ЛФ
Журашова С.А. - СЖ -





ВСЕРОССИЙСКАЯ ОЛИМПИАДА ШКОЛЬНИКОВ 2024/2025 гг.
МУНИЦИПАЛЬНЫЙ ЭТАП
ТЕХНОЛОГИЯ
КУЛЬТУРА ДОМА, ДИЗАЙН И ТЕХНОЛОГИИ
7 КЛАССЫ

175

Шифр участника


KDDT 7-5

Часть 2. Моделирование прямой юбки с рельефами

Задание:

1. Внимательно прочитайте описание модели и рассмотрите эскиз.
2. Найдите различия с базовой конструкцией прямой юбки (см. лист «Чертеж основы прямой юбки»).
3. В соответствии с эскизом нанесите новые фасонные линии и обозначьте ваши действия по моделированию на чертеже основы юбки на листе «Контроль практического задания». Используйте для этого стрелки, значки, слова, список и т.д.
4. Перенесите линии фасона на шаблон из цветной бумаги (чертеж на стр. 2 можно использовать для разрезания).
5. Изготовьте из цветной бумаги детали выкройки для раскладки на ткани.
6. Аккуратно наклейте детали выкройки на лист «Результат моделирования».
7. Нанесите на детали выкройки необходимые надписи для раскроя.

Таблица №1

Эскиз	Описание модели
 <p>1.</p>	<p>Юбка прямая из костюмной ткани, плотно прилегающая по бедрам длиной до линии колена.</p> <p>На переднем полотнище юбки вертикальные рельефы на уровне вытачек.</p> <p>На заднем полотнище юбки талиевые вытачки.</p> <p>Застежка «молния» в среднем шве.</p> <p>В среднем шве заднего полотнища разрез длиной 15 см от линии низа.</p> <p>Юбка заужена к низу</p> <p>Линия талии оформлена притачным поясом.</p>




ВСЕРОССИЙСКАЯ ОЛИМПИАДА ШКОЛЬНИКОВ 2024/2025 гг.
МУНИЦИПАЛЬНЫЙ ЭТАП
ТЕХНОЛОГИЯ
КУЛЬТУРА ДОМА, ДИЗАЙН И ТЕХНОЛОГИИ
7 КЛАССЫ

Шифр участника КДДТ4-5

Контроль практического задания «Моделирование прямой юбки с рельефами»

Нанесение линий фасона и необходимых надписей на чертеж основы





ВСЕРОССИЙСКАЯ ОЛИМПИАДА ШКОЛЬНИКОВ 2024/2025 гг.
МУНИЦИПАЛЬНЫЙ ЭТАП
ТЕХНОЛОГИЯ
КУЛЬТУРА ДОМА, ДИЗАЙН И ТЕХНОЛОГИИ
7 КЛАССЫ

Шифр участника КДДТ4-5

Результат моделирования (приклеить готовые выкройки модели)





ВСЕРОССИЙСКАЯ ОЛИМПИАДА ШКОЛЬНИКОВ 2024/2025 гг.
МУНИЦИПАЛЬНЫЙ ЭТАП
ТЕХНОЛОГИЯ
КУЛЬТУРА ДОМА, ДИЗАЙН И ТЕХНОЛОГИИ
7 КЛАССЫ

Шифр участника КДДТ4-5

Карта пооперационного контроля к практической работе
«Моделирование прямой юбки с рельефами»

№ п/п	Критерии оценивания	Макс. балл	Балл участника
Нанесение новых линий фасона и надписей на чертеже основы прямой юбки		10	
1.	Оформление рельефа на переднем полотнище юбки	2	2
2.	Оформление верхней части талиевой вытачки	2	2
3.	Нанесение отметки разреза под застежку на заднем полотнище	2	2
4.	Нанесение отметки разреза на заднем полотнище	2	2
5.	Уменьшение ширины переднего и заднего полотнищ по линии низа	1	1
6.	Построение пояса	1	0,5
Подготовка выкройки юбки к раскрою		10	
7.	Выполнение полного комплекта деталей (1 балл), характер моделирования рельефов на переднем полотнище (1 балл), характер моделирования заднего полотнища (1 балл)	3	2,5
8.	Наименование детали	1	1
9.	Количество деталей	1	0
10.	Направление долевой нити на деталях	1	0,5
11.	Сгибы, линии середины деталей	1	1
12.	Наличие надсечек (под застежку-молнию)	1	1
13.	Припуски на обработку каждого среза	1	1
14.	Аккуратность выполнения моделирования	1	0,5
	Итого	20	17

Ставилова Е.И. - Стаф
Кольцова В.В. - ЛБ
Казанцева С.А. - Сл